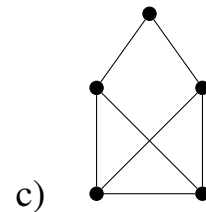
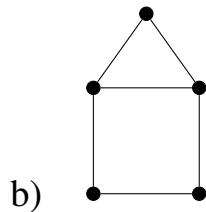
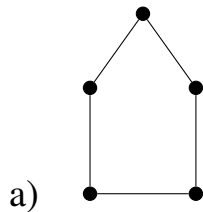


## Bevezetés a számításelméletbe II.

### 8. feladatlap

1. Határozzuk meg a kocka (gráfjának) élkromatikus számát.

2. Határozzuk meg az alábbi gráfok élkromatikus számát.



3. A 10 csúcsú  $G$  egyszerű gráfban minden csúcs foka 4. Határozzuk meg  $\nu(G)$  lehetséges legkisebb értékét.