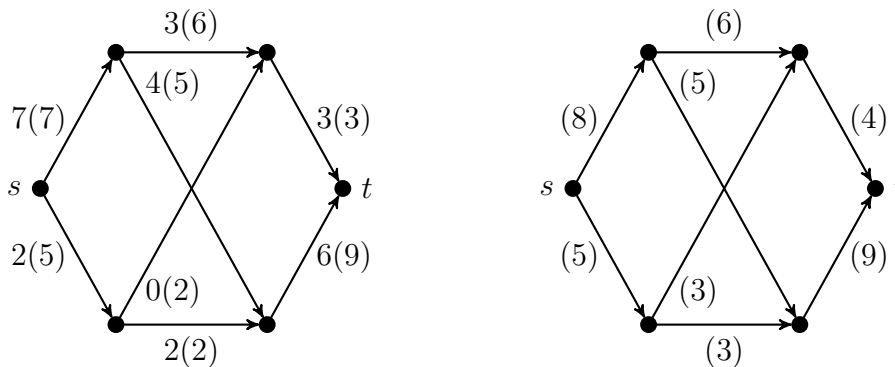


1. Mennyi a következő gráfok kromatikus száma:
 C_4 , C_5 , alábbi 2 gráf

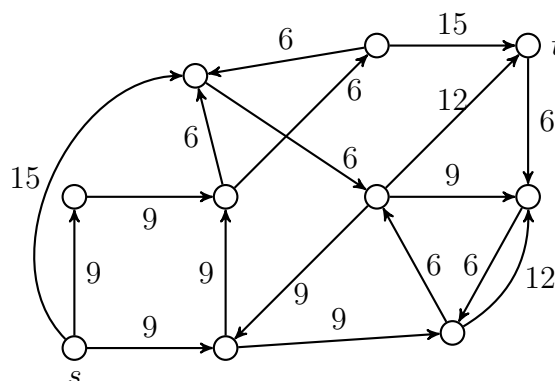


2. Van-e olyan G gráf, amiben nincs 4 csúcsú teljes részgráf, de G mégsem színezhető ki 3 színnel?
3. Igazoljuk, hogy $\chi(G) \leq \Delta(G) + 1$, ahol $\Delta(G)$ jelöli a maximális fokszámot a G gráfban.
4. Növeljük a bal oldali gráfban a megadott folyamot, ha ez lehetséges, vagy mutassuk meg, hogy ez már egy maximális folyam!

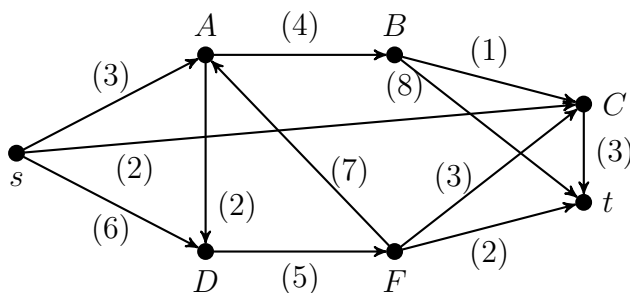


5. Adjunk meg egy maximális folyamot és egy minimális vágást a fenti jobb oldali gráfban!

6. G csúcsai egy sakktábla mezői. Két mező szomszédos G -ben, ha egymásból bátyával egy lépésben elérhetők. Mennyi G kromatikus száma?
7. [ppZH 2012. december 12.] Legyenek a G_n egyszerű gráf csúcsai az (i, j) számpárok, ahol i és j 1 és n közötti egészek. A G_n gráf (i, j) és (k, l) egymástól különböző csúcsai pontosan akkor szomszédosak, ha $i = k$ vagy $j = l$. Rajzoljuk le G_3 egy áttekinthető diagramját, valamint határozzuk meg G_3 kromatikus számát, $\chi(G_3)$ -t.
8. [ZH 2008. október 10.] Igaz-e, hogy az alábbi ábrához tartozó (G, s, t, c) hálózatban a maximális folyam nagyság (folyamérték) pontosan 17? (Az élekre írt számok a megfelelő kapacitásokat jelölik.)



9. Határozzunk meg egy maximális folyamot és egy minimális vágást a következő hálózatban!



10. Legyen G egy egyszerű gráf, amire $\chi(G) = k$. Tekintsük G -nek egy k színnel való színezését, ebben legyen az egyik felhasznált szín a piros. Bizonyítsuk be, hogy a megadott színezésben biztosan van olyan piros színű pont, aminek szomszédságában az összes felhasznált, pirostól különböző szín előfordul!

11. [pZH 2011. december 1.] A $G = (V, E)$ irányított gráf csúcshalmaza $V = \{v_{12}, v_{13}, v_{14}, v_{15}, v_{16}\}$ és $i < j$ esetén a $v_i v_j$ él kapacitása $c(v_i v_j) = (i, j)$, más éle G -nek nincs. Ha a $v_{15} v_{16}$ él kapacitását tetszés szerint megváltoztathatjuk, mennyi lehet a v_{12} -ből v_{16} -ba vezető maximális folyam nagysága? Mekkora az a legkisebb kapacitás a $v_{15} v_{16}$ élen, amire ez a maximális folyam nagyság elérhető?

Megjegyzés: (i, j) -vel jelöljük i és j számok legnagyobb közös osztóját.

12. Legyenek K és H a G gráf két komponense. Legyen G' az a gráf, amit G -ből úgy kapunk, hogy K minden pontját összekötjük H minden pontjával. Bizonyítsuk be, hogy $\chi(G) = \max\{\chi(K), \chi(H)\}$ ill. $\chi(G') = \chi(H) + \chi(K)$.

13. Egy kisváros úthálózata csupa egyirányú utcából áll. A polgármester minden hétköznap reggel autóval megy otthonról a városházára. A fejébe veszi, hogy úgy szeretné ezt megtenni, hogy minden utcán egy hét alatt legfeljebb egyszer menjen végig (a hazafelé utak nem számítanak). Adjunk meg olyan algoritmust, mellyel a kisváros térképe alapján eldönthető, hogy megtehető-e ez!

14. Mutassuk meg, hogy ha G véges, egyszerű gráf, akkor $|V(G)| \leq \chi(G) \cdot \alpha(G)$, ahol $\alpha(G) = k$, ha G -ben van k db páronként nem szomszédos csúcs, de $k + 1$ már nincs.

15. Igaz-e, hogy ha egy hálózatban minden él kapacitása páratlan szám, akkor van olyan maximális folyam, aminek minden élén a folyam értéke páratlan szám? És ha páros?

16. Igaz-e, hogy tetszőleges (nem 0 értékű folyammal rendelkező) hálózatban van olyan él, aminek a kapacitását csökkentve a maximális folyam nagyság csökken? Igaz-e, hogy tetszőleges (nem 0 értékű folyammal rendelkező) hálózatban van olyan él, aminek a kapacitását növelve, a maximális folyam nagyság növekszik?

17. Legyen G olyan (irányítatlan) gráf, melynek kromatikus száma k . Bizonyítsuk be, hogy ekkor G élei irányíthatók úgy, hogy a leghosszabb irányított út legfeljebb k pontot tartalmazzon!

18. [ppZH 2012. december 12.] Tegyük fel, hogy a (G, s, t, c) hálózatban f maximális nagyságú folyam és C a G egy olyan irányított köre, amelynek minden élén f pozitív értékeket vesz fel. Bizonyítsuk be, hogy C egyetlen éle sem tartozik minimális kapacitású (értékű) st -vágáshoz.

19. Igazoljuk, hogy ha G egyszerű gráf, akkor $|E(G)| \geq \binom{\chi(G)}{2}$.

20. Bizonyítsuk be, hogy egy n csúcsú, e élű reguláris G gráfra fennáll, hogy $\chi(G) \leq 1 + 2e/n!$

21. Igazoljuk, hogy ha a (G, s, t, c) hálózatban a c kapacitások egészek és f egy megengedett folyam, akkor létezik olyan megengedett f' egész folyam is, amelyre $\lfloor f(e) \rfloor \leq f'(e) \leq \lceil f(e) \rceil$ teljesül minden e élre.